

**KENDRIYA VIDYALAYA SANGATHAN ( BHOPAL REGION )**

**CLASS 4 CBT AUGUST 2025**

**ANSWER KEY**

**SECTION A - ENGLISH**

Read the passage carefully and answer the given question –

(Q 1 AND 2 ARE BASED ON PASSAGE)

If you are walking on the road in the evening , stick some reflective stickers on your clothes, so that drivers can see you clearly .

Footpaths are meant for pedestrians. Always walk on them and stay away from moving vehicles.

Q1. What should be stuck on your clothes while walking on the road evening ?

A – Transparent stickers

B – Cartoon stickers

C – Paper stickers

**D – Reflective stickers**

**Answer D – Reflective stickers**

**Explanation** – We have to stick some reflective stickers .

Q2. Footpaths are meant for –

A – Parking cars

B – Riding motorcycles

C – Setting up permanent shops

**D – Pedestrians**

**Answer D – Pedestrians**

**Explanation** – Footpaths are meant for pedestrians to walk .

Q3. Identify the following symbol and choose the correct option -



A – Right turn

**B – U turn**

C – Left turn

D – Don't turn

**Answer B – U turn**

**Explanation** – The above symbol is used for U turn .

Q4. Choose the Uncountable noun –

A – Cars

B – Apple

**C – Rice**

D – Knife

**Answer C – Rice**

**Explanation** – The rice is an uncountable noun as there is no plural of rice. The bowl of rice is a countable noun.

Q5. – Which activity is considered as safe while crossing the road –

A – Using headphones

**B – Looking on both side before crossing**

C – Playing on the road

D – Operating mobile phone

**Answer B – Looking on both side before crossing**

**Explanation** – Before crossing the road , we have to look our both side considered as a safe activity .

Q 6. – What does the green colour of a traffic light indicate ?

A – Stop immediately

**B – You may go .**

C – Wait

C – Run fast

**Answer B – You may go .**

**Explanation** – The green colour of a traffic light indicates that you may cross the intersection .

Q7. – Choose the countable noun -

A – Money

B – Bread

C – Milk

**D – Stars**

**Answer D – Stars**

**Explanation** – The stars are countable noun while money , bread and milk are uncountable noun as these nouns do not have any plural form.

Q8. Tick the correct opposite word of TOGETHER –

A – Jointly

**B – Separate**

C – Fastly

D – Smartly

**Answer B – Separate**

**Explanation** – The correct answer is separate .

Q9 . ‘ Always walk on the footpath’ the word **Walk** is –

A – Noun

B – Pronoun

**C – Verb**

D – Adjective

**Answer C – Verb**

**Explanation** – The word walk is an action so it is a verb.

Q10. – The misspelt word is –

**A – Vihecles**

B – Dangerous

C – Careful

D – Distract

**Answer A – Vihecles**

**Explanation** – The misspelt word is Vihecles . The correct spelling is VEHICLES .

## SECTION – B HINDI

गद्यांश पढ़कर प्रश्न का सही उत्तर बताओ।

(प्रश्न 1, 2, 3 गद्यांश पर आधारित हैं।)

एक बार एक छोटा सा खरगोश जंगल में घूम रहा था। वह बहुत चंचल और खुशमिजाज था। रास्ते में उसे एक गाजर मिली। खरगोश ने गाजर को खुशी-खुशी खाया और आगे बढ़ गया। उसने सोचा, “जंगल में और भी मजेदार चीजें मिलेंगी!”

Q1. खरगोश जंगल में क्या कर रहा था?

(A) खा रहा था।

**(B) खरगोश जंगल में घूम रहा था।**

(C) सो रहा था।

(D) दौड़ रहा था।

**उत्तर :B) खरगोश जंगल में घूम रहा था।**

**Explanation:** सही उत्तर। गद्यांश में बताया गया है कि खरगोश जंगल में घूम रहा था।

Q2. खरगोश को रास्ते में क्या मिला?

(A) केला

(B) सेब

**(C) गाजर**

(D) अंगूर

**उत्तर : (C) गाजर**

**Explanation:** गद्यांश में लिखा है कि खरगोश को गाजर मिली थी।

Q3. खरगोश का स्वभाव कैसा था? (एक शब्द)

(A) उदास

**(B) चंचल**

(C) शांत

(D) गुस्सैल

**उत्तर (B) चंचल**

**Explanation:** शाबाश ! गद्यांश में खरगोश को चंचल और खुशमिजाज बताया गया है।

Q4. निम्नलिखित में से सही वर्तनी वाला शब्द चुनें:

(A) खरगोस

**(B) खरगोश**

(C) खरगोसे

(D) खरगोष

**उत्तर : (B) खरगोश**

**Explanation:** :सही जवाब ! “खरगोश” सही वर्तनी है। बाकी विकल्पों में वर्तनी गलत है।

Q5. घोंघे ने पहली बार किस पेड़ को देखकर आश्चर्य व्यक्त किया?

(A) पीपल का पेड़

**(B) खजूर का पेड़**

(C) बड़ का पेड़

(D) नीम का पेड़

**उत्तर : (B) खजूर का पेड़**

**Explanation:** “बेचारे घोंघे ने कभी खजूर का पेड़ नहीं देखा था।” यह दर्शाता है कि घोंघे ने पहली बार खजूर का पेड़ देखा और आश्चर्यचकित हुआ।

Q6. घोंघे को बाहर की दुनिया बहुत अद्भुत लगी इसमें अद्भुत शब्द का क्या अर्थ है?

**(A) अलग और निराली**

(B) मतलबी

(C) भीड़ से भरी

(D) बहुत खराब

**उत्तर : (A) अलग और निराली**

**Explanation:** अद्भुत शब्द का अर्थ होता है अलग और निराला ,

Q7. पाठ में सूखे पत्ते की ध्वनि थी खड़-खड़ तो पानी बरसने की ध्वनि किस तरह की होगी ?

**(A) टिप -टिप की ध्वनि**

(B) चीं-चीं की ध्वनि

- (C) भन-भन की ध्वनि
- (D) फड़-फड़ की ध्वनि

**उत्तर: (A) टिप -टिप की ध्वनि**

**Explanation:** पानी बरसने की ध्वनि टिप – टिप होती है।

Q.8"घोंघा उद्यान का कोना-कोना पहचान गया था।" इस वाक्य में 'घोंघा' किस प्रकार का शब्द है?

**(A) संज्ञा**

- (B)सर्वनाम
- (C)क्रिया
- (D) विशेषण

**उत्तर : (A) संज्ञा**

**Explanation:** 'घोंघा' एक संज्ञा है, क्योंकि यह एक प्राणी का नाम है। संज्ञा वह शब्द है जो किसी व्यक्ति, स्थान, वस्तु या भाव को दर्शाता है।

Q.9"घोंघे ने कहा।" इस वाक्य में 'कहा' किस प्रकार का शब्द है?

- (A) संज्ञा
- (B) क्रिया**
- (C) विशेषण
- (D) सर्वनाम

**उत्तर : (B) क्रिया**

**Explanation:** 'कहा' एक क्रिया है, क्योंकि यह घोंघे द्वारा की गई बोलने की क्रिया को दर्शाता है।

Q10. " राम एक साहसी लड़का है ।" निम्न में से साहसी शब्द का विलोम क्या होगा ?

- (A) बुद्धिमान
- (B) डरपोक**
- (C) बहादुर
- (D) कोई नहीं

**उत्तर : (B) डरपोक**

**Explanation:** साहसी शब्द का विलोम डरपोक होता है , शेष विकल्प साहसी के विलोम नहीं हैं ।

## **SECTION – C MATHS**

Q1. The number 4,072 has:

- (A) 4 thousands, 0 hundreds, 7 tens, 2 ones**
- (B) 4 hundreds, 7 tens, 2 ones
- (C) 4 hundreds, 0 tens, 7 ones
- (D) 4 thousands, 7 hundreds, 2 ones

**Answer 1: (A) 4 thousands, 0 hundreds, 7 tens, 2 ones**

**Explanation :** According to place value 4 thousands, 0 hundreds, 7 tens, 2 ones will be the answer.

Q2. How many hundreds are there in one thousand?

- (A) 5 hundreds
- (B) 10 hundreds**
- (C) 100 hundreds
- (D) 1 hundred

**Answer: (B) 10 hundreds**

**Explanation:** There are 10 hundreds in a thousand.

Q3. Which number is an odd number?

- (A) 12
- (B) 33**
- (C) 66
- (D) 48

**Answer: (B) 33**

**Explanation:** 33 is not the multiple of 2.

Q4. Which of the following is a pattern of even numbers?

- (A) 1, 3, 5, 7
- (B) 2, 4, 6, 8**
- (C) 5, 10, 15, 20
- (D) 3, 6, 9, 12

**Answer: 2, 4, 6, 8**

**Explanation:** The difference between numbers in the pattern is the multiple of two.

Q5. There are 1,200 children in a school. If 800 are boys, how many are girls?

(A) 650

**(B) 400**

(C) 450

(D) 300

**Answer: (B) 400**

**Explanation :** On subtracting we will get 400 as Answer

Q6. Look at the pattern what will be the next shape?




**(A) Option 1**



**(B) Option 2**



**(C) Option 3**



**(D) Option 4**



**Answer : (A) Option 1**



**Explanation:** Option 1 pattern will be followed



Q7. What will come after increasing 5892 by 10?

- (A) 5792
- (B) 5722
- (C) 5804
- (D) 5902**

**Answer: (D) 5902**

**Explanation:**  $5892 + 10 = 5902$

Q8. Which of the following numbers is the greatest?

- (A) 999
- (B) 1025
- (C) 1250**
- (D) 810

**Answer : (D) 1250**

**Explanation:** Among all the numbers 1250 is greatest

Q9. Which number is read as “Four thousand five hundred twenty-one”?

- (A) 4021
- (B) 452
- (C) 4052
- (D) 4521**

**Answer: (D) 4521**

**Explanation:** According to place value system 4521 will be the answer.

Q10. What number will it become with 15 tens + 23 ones?

- (A) 1523
- (B) 173**
- (C) 1052
- (D) 251

**Answer : (D) 173**

**Explanation:**  $15 \text{ tens} + 23 \text{ ones} = 150 + 23 = 173$

## SECTION – D TWAU

Q1. Identify which bird is this.

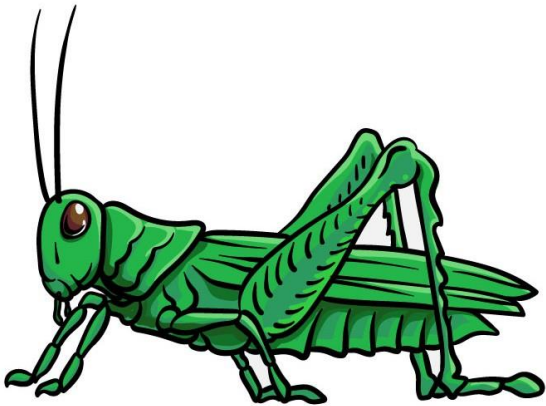


- A) Parrot
- B) Owl
- C) Eagle
- D) Pigeon

**Answer: C) Eagle**

**Explanation:** This picture belongs to eagle.

Q2. Name the Insect shown below.

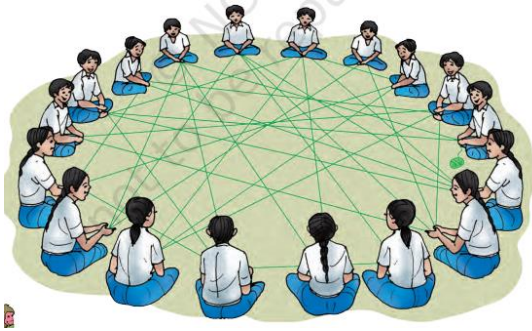


- A) Ant
- B) Grasshopper
- C) Butterfly
- D) Bee

**Answer: B) Grasshopper**

**Explanation:** This picture belongs to Grasshopper.

**Q3. Which game they are playing?**



- A) Hide and Seek
- B) Kabaddi
- C) Cricket
- D) Web of Life

**Answer: D) Web of Life**

**Explanation:** According to chapter children are playing web of life game by holding card with the name of a plant, animal or natural elements.

**Q4. Which animal is described as large, red-coloured, and strong?**

- A) Spectacled Monkey
- B) Indian Giant Squirrel
- C) Gaur
- D) Bison

**Answer: B) Indian Giant Squirrel**

**Explanation:** The Indian Giant Squirrel is described in the chapter as large, red-coloured, and strong, often seen jumping between trees.

**Q5. What special feature helps turtles and frogs live in water?**

- A) Wings
- B) Webbed feet
- C) Long snout
- D) Sharp claws

**Answer: B) Webbed feet**

**Explanation:** Animals like turtles and frogs have webbed feet that help them swim in water easily, like natural paddles.

**Q6. What are the lines found on leaves called?**

- A) Pores
- B) Veins
- C) Stems

D) Petioles

**Answer: B) Veins**

**Explanation:** The lines seen on leaves are called veins. They carry water and nutrients and give shape to the leaf.

**Q7. Identify which bird has a headgear-like structure on its head?**

A) Peacock

B) Hornbill

C) Owl

D) Sparrow

**Answer: B) Hornbill**

**Explanation:** The Hornbill has a unique casque (a headgear-like structure) on top of its beak, which makes it easily identifiable.

**Q8. Identify Which bird is noted for its sharp eyesight at night?**

A) Crow

B) Eagle

C) Sparrow

D) Owl

**Answer: D) Owl**

**Explanation:** Owls are nocturnal birds with excellent night vision, which helps them hunt in the dark.

**Q9. What does Pachmarhi's "Web of Life" game teach students?**

A) How to draw footprints

B) Interdependence of nature

C) How to identify trees

D) How to walk silently

**Answer: B) Interdependence of nature**

**Explanation:** The game helps children learn how all parts of nature — animals, plants, soil, and water — are interconnected and depend on each other.

**Q10. Identify which animal is known as the state animal of Tripura?**

A) Elephant

B) Tiger

C) Spectacled Monkey

D) Bison

**Answer: C) Spectacled Monkey**

**Explanation:** The Spectacled Monkey is the state animal of Tripura. The white patches around its eyes make it look like it is wearing spectacles.